

# Stadtrallye durch Altenkunstadt

Wie gut kennst du deinen Ort, suche die Bilder und löse die Aufgaben. Viel Spaß

**Start:**



Jesus betet, doch seine Jünger schlafen. Wie viele von ihnen siehst du hier?

\_\_\_ = L



Wie lange darf man vor diesem Gebäude mit Parkscheibe max. parken?

\_\_\_ = O



Hier in der Nähe gibt es einen Vitalpark mit Sportgeräten, wie viele kannst du zählen?

\_\_\_ = \_\_\_ = R



Wie viele Garagen befinden sich unter diesem Dach?

\_\_\_ = K

Wann wird der Briefkasten im Hintergrund am Samstag gelehrt?

\_\_\_ = S



Wie viele Stunden in der Woche hat dieser Laden geöffnet?

\_\_\_ = C



In welchem Abschnitt steht die Laterne rechts von diesem Bild? Streiche die Nuller:

\_\_\_\_\_ = \_\_\_ = H



Die zweite Ziffer der Telefonnummer lautet:

\_\_\_ = E

Welche Ziffer auf dem Stromkasten rechts von diesem Süßigkeitenautomaten hat zwei rechte und zwei linke Nachbarn?

\_\_\_ = H



Wie viele X zieren das Tor der Einfahrt unter diesem Vogelhaus, multipliziere die Anzahl mit sich selbst?

\_\_\_ x \_\_\_ = \_\_\_ = T



Wie viele Schrauben halten dieses Schild?

\_\_\_ = I


Welche Hausnummer beschützt diese Marienfigur mit Kind?

\_\_\_ = A




Wieviele Klingeln hat das Haus am oberen Ende der Treppe?

\_\_\_ = N



In welchem Jahr wurde dieses Haus erbaut? Zähle die Ziffern der Jahreszahl zusammen (Quersumme)

\_\_\_ = Z




Wie viele Stufen führen zu dieser Tür?

\_\_\_ = H

Wie viele Fenster zählst du im roten Bereich des Hauses links, dieser Mauer?

\_\_\_ = C



Du hast 16 Zahlen herausgefunden, ordne sie in aufsteigender Reihenfolge und du erhältst ein Lösungswort:

\_\_\_ \_\_\_ \_\_\_ dir den

\_\_\_\_\_ !